





1. Aşağıda görselleri verilen doğal kaynaklar nelerdir? Adlarını yazınız.

CEVAP:

			
Toprak	Su	Orman	Madenler

2. Doğal kaynak nedir? Doğal kaynak çeşitlerini yazınız.

CEVAP:

Doğal Kaynak: Oluşumunda insanların etkisinin bulunmadığı, doğada var olan tüm zenginliklerdir.

Doğal kaynaklarımız: Topraklarımız, Sularımız, Madenlerimiz, Ormanlarımız

3. Toprağa dayalı ekonomik faaliyetler nelerdir? Yazınız.

CEVAP: Tarım, hayvancılık, ormancılık, sanayi

4. Su kaynaklarına bağlı gelişen ekonomik faaliyetler nelerdir? Yazınız.

CEVAP: Balıkçılık, enerji üretimi, su sporları, deniz turizmi, taşımacılık, termal turizm

5. Orman kaynaklarına bağlı gelişen ekonomik faaliyetler nelerdir? Yazınız.

CEVAP: Kerestecilik, Mobilyacılık, kâğıt sanayi, ilaç ve kozmetik sanayi

6. Madenlere dayalı gelişen ekonomik faaliyetler nelerdir? Yazınız.

CEVAP: Madencilik ve madenlere dayalı sanayi kolları

7. ABD'den köyüne döndü, örnek bir başarı hikâyesi yazdı

"...ABD'de bir üniversitede öğretim üyesi iken dedesinin vefatı üzerine memleketi Burdur'a gelen 37 yaşındaki Aynur Onur 'Miras kalan araziler boş kalmayın.' Düşüncesiyle uzun süre kafa yordığı susuz tarım projesini hayata geçirerek örnek bir başarı hikâyesi yazdı. Dedesinden kalan tarlalarda lavanta, altın otu, papatya, ada çayı, kekik, biberiye gibi tıbbi bitkiler yetiştirmeye başlayan Onur, bu bitkilerin yağlarını çıkaracak bir de tesis kurdu..." (Genel ağdan alınmıştır.)

a. Verilen genel ağ haberinde hangi doğal kaynaktan yararlanılmıştır? Yazınız.

CEVAP: Toprak

b. Verilen genel ağ haberinde hangi ekonomik faaliyetler gerçekleştirilmiştir? Yazınız.

CEVAP: Tarım ve sanayi

8. Aşağıda verilen illerde yetiştirilen başlıca tarım ürünleri nelerdir? Bu tarım ürünleri hangi sanayi dallarında değerlendirilmektedir?

CEVAP:

Konya	Tahıl ürünleri ve şeker pancarı
Tekirdağ	Ayçiçeği
Aydın	İncir ve üzüm
Antalya	Turunçgiller
Giresun	Fındık
Rize	Çay
Gaziantep ve Şanlıurfa	Fıstık
Adana	Pamuk

9. Ülkemizde aşağıda verilen yerlerde su kaynaklarına dayalı olarak başlıca hangi ekonomik faaliyetler gelişmiştir? Yazınız.

CEVAP:

Denizli	Termal turizm
İstanbul	Deniz ticareti ve ulaşım
İzmir ve Antalya	Yaz turizmi
Muğla	Kültür balıkçılığı
Antalya	Su sporları
Karadeniz kıyıları	Balıkçılık
Artvin Çoruh Nehri	Su sporları ve hidroelektrik enerji üretimi
Van Gölü	Taşımacılık
Fırat Nehri	Hidroelektrik enerji üretimi

10. Ülkemizde orman kaynaklarına dayalı ekonomik faaliyetlerin en fazla gelişme gösterdiği yer neresidir? Yazınız.

CEVAP: Karadeniz ve çevresi, Güney Marmara, Güney Ege, Akdeniz ve çevresi

11. Ormanların bazı yan faydaları nelerdir? Yazınız.

CEVAP: Oksijen kaynağı olmasının yanı sıra sel, erozyon, çığ gibi afetlerin yıkıcı etkilerinin azalmasında etkili olmaktadır.

12. Ülkemizin maden varlığı bakımından dünyadaki yeri nedir? Yazınız.

CEVAP: Dünya genelinde ticareti yapılan 90 çeşit madenden 77'si ülkemizde bulunmaktadır. Ülkemiz maden üretimi bakımından dünyada 28, maden çeşitliliği bakımından 10. sırada yer almaktadır.

13. Ülkemizde aşağıdaki yerlerde çıkarılan madenler bu madenlerin kullanım alanları nelerdir?

Yazınız.

CEVAP:

Zonguldak	Taş Kömürü	Enerji üretiminde kullanılmaktadır.
Kütahya, Eskişehir, Balıkesir ve Bursa	Bor mineralleri	Bilişim teknolojileri, cam sanayisi, roket yakıtı üretimi gibi alanlarda kullanılmaktadır.
Afyonkarahisar	Mermer	İnşaat, heykeltçilik, dekorasyon gibi alanlarda kullanılmaktadır.
Konya	Boksit	Alüminyumun ticareti yapılmaktadır.
Tuz Gölü	Tuz	Tuz madeni; gıda sanayisinde kullanılmaktadır.
Elazığ	Krom	Uçak, gemi ve otomotiv sanayisinde kullanılmaktadır.
Artvin	Bakır	Elektrik-elektronik sanayisinde, inşaat alanında ve kimya sanayisinde kullanılmaktadır.
Erzurum	Oltu taşı	Süs eşyası yapımında kullanılmaktadır.
Batman'da ve Şırnak/Gabar	Petrol	Ülkemizin yakıt ihtiyacının bir kısmını karşılamaktadır.
Malatya	Demir	Sanayinin temel ham maddesi olmakla birlikte otomotiv sanayi ve inşaat alanında kullanılmaktadır.

14. Meslek ve ekonomik faaliyet kavramlarını tanımlayınız.

CEVAP:

Meslek: İnsanların geçimlerini sağlamak için sürekli olarak yaptıkları işe meslek adı verilir.

Ekonomik Faaliyet: Üretim, tüketim ve dağıtım ile ilgili her türlü çalışmaya da ekonomik faaliyet denir.

15. Aşağıda verilen mesleklerin ilgili olduğu ekonomik faaliyetler hangileridir? Karşlarına yazınız.

CEVAP:

Çiftçilik	Tarım
Ziraat mühendisliği	Tarım
Makine mühendisliği	Sanayi
Resepsiyonist	Turizm
Garson ve Komi	Turizm
Animatör	Turizm
Veterinerlik	Hayvancılık
Doktorluk	Hizmet sektörü
Öğretmenlik	Hizmet sektörü
Maden mühendisliği	Madencilik

16. Hakkında bilgi verilen meslekler nelerdir? Açıklamaların karşlarına yazınız.

CEVAP:

Bireyin davranışlarını, düşüncelerini, duygularını, zihinsel süreçlerini inceleyen, değerlendiren ve gerektiğinde çözüm önerilerinde bulunan uzmanlardır.	Psikolog
Sanayi alanında kullanılacak araç ve gereçlerin tasarımını ve üretimini gerçekleştirmektedir.	Makine mühendisi
Hijyen kurallarına uygun şekilde lezzetli ve özgün yemekler hazırlayarak hem turistik tesislerin kalitesini artırır hem de kültürel tanıtıma katkıda bulunur.	Aşçı
Ağaçlandırma projelerinin geliştirilmesi, orman alanlarının belirlenmesi, orman dokusunun korunması gibi iş ve işlemleri yapar.	Orman mühendisi

17. Aşağıda verilen mesleklerin çalışma alanı nedir? Kısaca açıklayınız.

CEVAP:

İhracat uzmanı	Müşteri iletişimini gerçekleştirerek sipariş sürecini düzenler ve ihracat süreçlerinin koordinasyonunu sağlar.
Besicilik	Büyükbaş veya küçükbaş hayvanların bakımı, beslenmesi ve yetiştirilmesi ile ilgilendir, bunun sonucunda et ve süt üretimini sağlar.
Ziraat Mühendisi	Toprak verimliliğinin artırılması, bitkilerin ve tarım ürünlerinin geliştirilmesi, tarım teknolojilerinin kullanımı gibi alanlarda çiftçilere destek olurlar.
Maden Mühendisi	Madenlerin tespiti, miktarının belirlenmesi, işlenmesi gibi işlemlerin planlamasını ve yönetimini sağlar.

18. Aşağıdaki meslekler hangi dönemlere aittir? Karşlarına yazınız.

CEVAP:

Yapay zekâ mühendisliği	Günümüz ve Gelecek
Diron pilotluğu	Günümüz ve gelecek
Keçecilik	Geçmiş
Gazetecilik	Günümüz
Semercilik	Geçmiş

19. Aşağıdaki görseller bir ürünün üretim, dağıtım ve tüketim aşamalarından hangilerini ifade eder? Yazınız.

CEVAP:



20. Yatırım, Sermaye ve Pazarlama nedir? Kısaca açıklayınız.

CEVAP:

Yatırım: Parayı gelir getirici taşınır veya taşınmaz bir mala yatırmaktır.

Sermaye: Bir işin yapılıp sürdürülebilmesi için ihtiyaç duyulan ana paradır.

Pazarlama: Ürün ve hizmetlerin tanıtılması, müşterilere sunulması ve satışının gerçekleştirilmesi süreçlerini kapsar.

21. Ürün tasarlama süreçleri nelerdir? Yazınız.

CEVAP:

1. Tasarlanacak Ürünün Belirlenmesi (Fikir Aşaması)
2. Araştırma
3. Hazırlama
4. Uygulama
5. Değerlendirme

22. Yeni bir ürün fikri oluştururken çevredeki ihtiyaçlar ve problemler göz önünde bulundurulur. Bu aşamada mevcut bir ürüne farklı özellikler ekleyerek onu yeniden tasarlama fikirleri de geliştirilebilir.

Verilen bu açıklama ürün tasarlama süreçlerinden hangisine aittir? Yazınız.

CEVAP: Tasarlanacak Ürünün Belirlenmesi (Fikir Aşaması)

23. AR-GE nedir? Yazınız.

CEVAP:

AR-GE: Tasarlanan bir ürünün AR-GE (Araştırma ve Geliştirme) çalışması; o ürünün piyasaya sunulmadan önce her yönüyle detaylı bir şekilde incelenmesi, geliştirilmesi ve test edilmesidir.

24. İnovasyon Süreçleri Nelerdir? Yazınız.

CEVAP: 1) Fikirler 2) Çözümün belirlenmesi 3) Geliştirme ve uygulama 4) Ticarileştirme 5) Değerlendirme

25. Teknolojinin getirdiği yenilikler, tüketicilerin ihtiyaçlarındaki değişimler, araştırma-geliştirme sonuçlarından elde edilen veriler nedeniyle yeni fikirlerin ortaya konulduğu aşamadır.

Verilen açıklama inovasyon süreçlerinden hangisi ile ilgilidir? Yazınız.

CEVAP: Fikirler süreci ile ilgilidir.